

Time: 10 Minutes	Paper Math 6 (T-1)	Total Marks: 10
5th Month, 2nd Week, 5th Day	Review Exercise 9 Q # (3, 4, 5)	

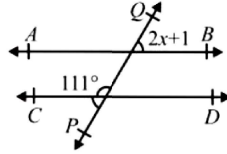
☆ Answer the following questions: درج ذیل سوالات کے جواب دیں۔

Q.1. Differentiate between 2-D and 3-D shapes and give one example for each one. (1x3=3)

2-D اور 3-D اشکال میں موازنہ کریں اور دونوں کی ایک ایک مثال دیں۔

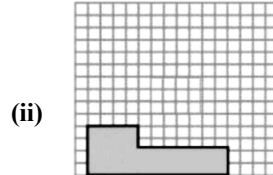
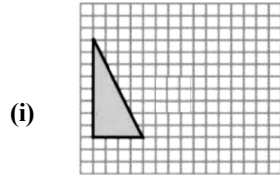
Q.2. Find the value of x in the given figure. (1x2=2)

دی گئی شکل میں x کی قیمت معلوم کریں۔



Q.3. Use the concept reflective symmetry to complete the following figures. (2.5x2=5)

عکسی تشاکل کا تصور استعمال کر کے درج ذیل اشکال کو مکمل کریں۔



Time: 10 Minutes	Paper Math 6 (T-1)	Total Marks: 10
5th Month, 2nd Week, 5th Day	Review Exercise 9 Q # (3, 4, 5)	

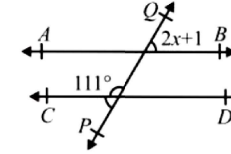
☆ Answer the following questions: درج ذیل سوالات کے جواب دیں۔

Q.1. Differentiate between 2-D and 3-D shapes and give one example for each one. (1x3=3)

2-D اور 3-D اشکال میں موازنہ کریں اور دونوں کی ایک ایک مثال دیں۔

Q.2. Find the value of x in the given figure. (1x2=2)

دی گئی شکل میں x کی قیمت معلوم کریں۔



Q.3. Use the concept reflective symmetry to complete the following figures. (2.5x2=5)

عکسی تشاکل کا تصور استعمال کر کے درج ذیل اشکال کو مکمل کریں۔

